

1. Расположите в хронологической последовательности исторические события. Впишите цифры, которыми обозначены исторические события, в правильной последовательности.

- 1) присоединение Астрахани к Московскому государству
- 2) образование Франкского королевства
- 3) основание Петербурга

2. Установите соответствие между событиями и годами: к каждой позиции первого столбца подберите соответствующую позицию из второго столбца.

СОБЫТИЯ	ГОД
А) гибель князя Святослава на днепровских порогах	1) 862 г.
Б) присоединение Рязанского княжества к Московскому государству	2) 972 г.
В) арест и казнь Л. П. Берия	3) 1521 г.
Г) создание Верховного тайного совета	4) 1613 г.
	5) 1726 г.
	6) 1953 г.

3. Ниже приведён перечень терминов. Все они, за исключением двух, относятся к событиям XVIII в.

- 1) Сенат
- 2) кондиции
- 3) коллегии
- 4) отруб
- 5) Синод
- 6) Негласный комитет

Найдите и запишите порядковые номера терминов, относящихся к другому историческому периоду.

4. Напишите пропущенное слово.

Государственный орган, осуществлявший общегосударственное планирование развития народного хозяйства СССР и контроль за выполнением народнохозяйственных планов, созданный в начале 1920-х гг., назывался _____ СССР.

5. Установите соответствие между процессами (явлениями, событиями) и фактами, относящимися к этим процессам (явлениям, событиям): к каждой позиции первого столбца подберите соответствующую позицию из второго столбца.

ПРОЦЕСС (ЯВЛЕНИЕ, СОБЫТИЕ)	ФАКТЫ
А) раскол в Русской православной церкви	1) создание
Б) политическая раздробленность на Руси	Правительствующего Сената
В) установление советской власти	2) казнь протопопа Аввакума
Г) преобразования Петра Великого	3) создание Государственной думы
	4) занятие Юрием Долгоруким киевского престола
	5) принятие Декрета о рабочем контроле
	6) заточение патриарха Гермогена

Запишите в ответ цифры, расположив их в порядке, соответствующем буквам:

А	Б	В	Г

6. Установите соответствие между фрагментами исторических источников и их краткими характеристиками: к каждому фрагменту, обозначенному буквой, подберите по две соответствующие характеристики, обозначенные цифрами.

ФРАГМЕНТЫ ИСТОЧНИКОВ

А) «В 6 часов 23 июня войска 4-й армии нанесли противнику контрудар из района Жабинки. Немцы никак не ожидали этого и на ряде участков фронта были отброшены на несколько километров. Но через полчаса над нашими войсками появилось множество вражеских самолетов. Пикирующие бомбардировщики Ю-88 буквально висели над боевыми порядками 14-го механизированного корпуса.

Под прикрытием авиации перешла в наступление группа Гудериана. И вот на рубеже Каменец – Жабинка – Радваничи развернулось ожесточенное встречное сражение. В него втянулись как с нашей, так и с немецкой стороны почти все танки и самолёты, предназначенные для действий на брестском направлении. С наблюдательного пункта полковника Богданова был хорошо виден бой двух наших танковых полков с огромным количеством вражеских танков и сопровождавшей их артиллерией. Против первого эшелона 30-й танковой

дивизии развернулись две фашистские танковые дивизии, 17-я и 18-я. Поле боя из конца в конец было усеяно пылающими боевыми машинами... Захватили несколько пленных... Это были первые пленные, взятые в полосе нашей армии. ...Бой этот вылился в своеобразный танковый поединок с несомненным преимуществом на стороне противника. У немцев и танков было больше, и авиация их поддерживала лучше. Мы располагали здесь только лёгкими... Т-26 с лобовой броней в 15 миллиметров и 45-миллиметровыми пушками. Немецкие же танковые дивизии имели в своём составе значительное число новых машин Т-4 с лобовой броней в 30 миллиметров и вооруженных 75-миллиметровыми пушками. <...>

И всё-таки 30-я танковая дивизия дралась упорно, люди её вели себя героически, и враг нёс большие потери».

Б) «Какая, господа, разница, теперь, на 27-м месяце войны, разница, которую особенно замечаю я, прошедший несколько месяцев этого времени за границей. Мы теперь перед новыми трудностями, и трудности эти не менее сложны и серьёзны, не менее глубоки, чем те, перед которыми мы стояли весной прошлого года. Правительству понадобились героические средства для того, чтобы бороться с общим расстройством народного хозяйства. Мы сами те же, что прежде. Мы те же на 27-м месяце войны,

какими были на 10-м и какими были на первом. Мы по-прежнему стремимся к полной победе, по-прежнему готовы нести необходимые жертвы и по-прежнему хотим поддерживать национальное единение. Но я скажу открыто: есть разница в положении. Мы потеряли веру в то, что эта власть может нас привести к победе... (голоса: "Верно"), ибо по отношению к этой власти и попытки исправления, и попытки улучшения, которые мы тут предпринимали, не оказались удачными.

Когда вы целый год ждете выступления Румынии, настаиваете на этом выступлении, а в решительную минуту у вас не оказывается ни войск, ни возможности быстро подвозить их по единственной узкоколейной дороге, и, таким образом, вы ещё раз упускаете благоприятный момент нанести решительный удар на Балканах, – как вы назовете это: глупостью или изменой? (голоса слева: "Одно и то же"). Когда, вопреки нашим неоднократным настаиваниям (...) намеренно тормозится дело, и попытка

умного и честного министра решить, хотя бы в последнюю минуту, вопрос в благоприятном смысле кончается уходом этого министра и новой отсрочкой, а враг наш, наконец, пользуется нашим промедлением, – то это: глупость или измена? (голоса слева: "Измена"). Выбирайте любое. Последствия те же».

ХАРАКТЕРИСТИКИ

- 1) В отрывке речь идет о войне, унесшей более 20 млн. жизней наших сограждан.
- 2) В отрывке речь идет о войне, из которой Россия вышла досрочно, нарушив свои обязательства перед союзниками.
- 3) В отрывке речь идет о войне, результат которой стало присоединение Крыма.
- 4) В отрывке речь идет о войне, в результате которой России запрещалось иметь флот на Черном море.
- 5) В отрывке речь идет о войне, в ходе которой образовалась «Большая тройка».
- 6) В отрывке речь идет о войне, в ходе которой в России сменилась власть и форма правления.

Фрагмент А		Фрагмент Б	

7. Какие три из перечисленных явлений относятся к «военному коммунизму»? Соответствующие цифры запишите в ответ.

- 1) аренда мелких и средних предприятий
- 2) продразвёрстка
- 3) всеобщая трудовая повинность

- 4) концессии иностранным предпринимателям
- 5) бесплатные коммунальные услуги
- 6) широкое кооперативное движение

8. Заполните пропуски в данных предложениях, используя приведённый ниже список пропущенных элементов: для каждого предложения, обозначенного буквой и содержащего пропуск, выберите номер нужного элемента.

А) Командиром 316-й стрелковой дивизии, участвовавшей в обороне Москвы, был _____.

Б) В ноябре 1943 г. советские войска освободили город _____.

В) Приказ № 227 («Ни шагу назад!») был издан летом _____ года.

Пропущенные элементы:

- 1) Киев
- 2) И. В. Панфилов
- 3) 1943
- 4) 1942
- 5) Минск
- 6) М. С. Шумилов

Запишите в ответ цифры, расположив их в порядке, соответствующем буквам:

А	Б	В

9. Установите соответствие между событиями и их участниками: к каждой позиции первого столбца подберите соответствующую позицию из второго столбца.

СОБЫТИЕ

УЧАСТНИК

- А) поход Красной Армии на Варшаву в 1920 г.
- Б) создание III Отделения императорской канцелярии
- В) Ливонская война
- Г) разгром Хазарского каганата

- 1) М. Н. Тухачевский
- 2) А. М. Курбский
- 3) Святослав Игоревич
- 4) А. Х. Бенкендорф
- 5) Андрей Боголюбский
- 6) А. Д. Меншиков

Запишите в ответ цифры, расположив их в порядке, соответствующем буквам:

А	Б	В	Г

10. Прочитайте отрывок из воспоминаний маршала К.К. Рокоссовского и укажите, о какой битве идет речь.

«Утром 1 февраля огненная буря обрушилась на позиции врага. Нам с наблюдательного пункта было видно, как весь передний край его обороны потонул в разрывах снарядов и мин. По артиллерийским позициям в глубине обороны бомбовые удары наносила авиация. Канонада грохотала долго. Наконец она стихла. И тотчас во многих местах над еще дымившейся черной землей затрепетали белые флаги. Появлялись они стихийно, помимо воли немецкого командования, и потому получалось, что на одном участке немцы сдавались, бросая оружие, а на другом еще продолжали драться. В отдельных местах бой шел еще сутки. Только утром 2 февраля остатки окруженной северной группы стали сдаваться в массовом порядке, и опять это происходило помимо воли фашистского командования. Окруженная группировка противника прекратила свое существование».

11. Заполните пустые ячейки таблицы, используя представленные в приведённом ниже списке данные. Для каждой ячейки, обозначенной буквами, выберите номер нужного элемента.

Место	Событие	Дата
_____ (А)	Объединение сил 1-й и 2-й русских армий	_____ (Б)
г. Малоярославец	_____ (В)	12 октября 1812 г.

_____ (Г)	Военный совет, принявший решение об оставлении Москвы	_____ (Д)
Река Березина	_____ (Е)	14–17 ноября 1812 г.

Пропущенные элементы:

- 1) 26 августа 1812 г.
- 2) г. Смоленск
- 3) неудачная попытка окружения и уничтожения армии Наполеона
- 4) деревня Фили
- 5) сражение, исход которого заставил Наполеона отступить по Старой Смоленской дороге
- 6) село Бородино
- 7) 1 сентября 1812 г.
- 8) 4–5 августа 1812 г.
- 9) сражение, надломившее дух завоевателей, ослабившее их наступательную активность

Запишите в ответ цифры, расположив их в порядке, соответствующем буквам:

А	Б	В	Г	Д	Е

12. Прочтите отрывок из беседы российского императора с иностранным посланником.

«Постигаете ли вы, какие впечатления и чувства в олнуют и давят меня в продолжение целого месяца?

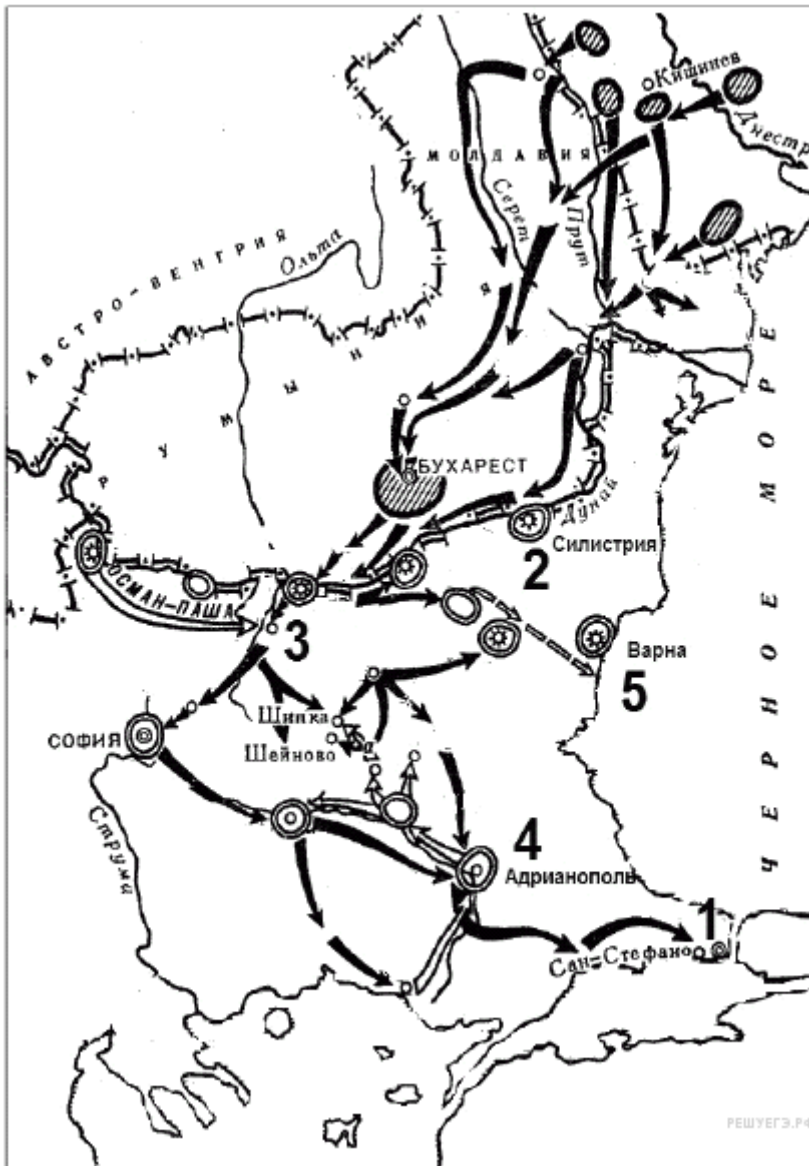
...Я находил, нахожу и теперь, что если бы брат Константин внял моим настойчивым мольбам и прибыл в Петербург, то мы избежали бы ужасающей сцены, коей вы были свидетелем, и опасности, которой она подвергла нас в продолжение нескольких часов. Он не счёл нужным уступить моим просьбам. Невозможность ...положить конец продолжительной и опасной неизвестности, в которой находилось общество, заставило меня тогда принять престол. Но заговорщики вообразили, что они разом нашли и предлог, и способ действовать. Они ухитрились внушить о разделе между братом и м ною, а м оё поведение изобразили в самом гнусном свете. ...Уверив солдат, что государь, с коим связывала их первая присяга, находится в заточении и вверяет им заботу отомстить за него, успели ввести некоторых из них в заблуждение. Вот что делало моё положение в прошлый понедельник в тысячу раз ужаснее, чем я могу вам выразить. Я был увлечён необходимостью чтобы спасти столицу, быть может, империю от страшной катастрофы, пролить кровь несчастных, большая часть которых доказывала своим участием в бунте, до чего может их довести верность присяге и преданность царю...»

Используя отрывок и знания по истории, выберите в приведённом списке три верных суждения.

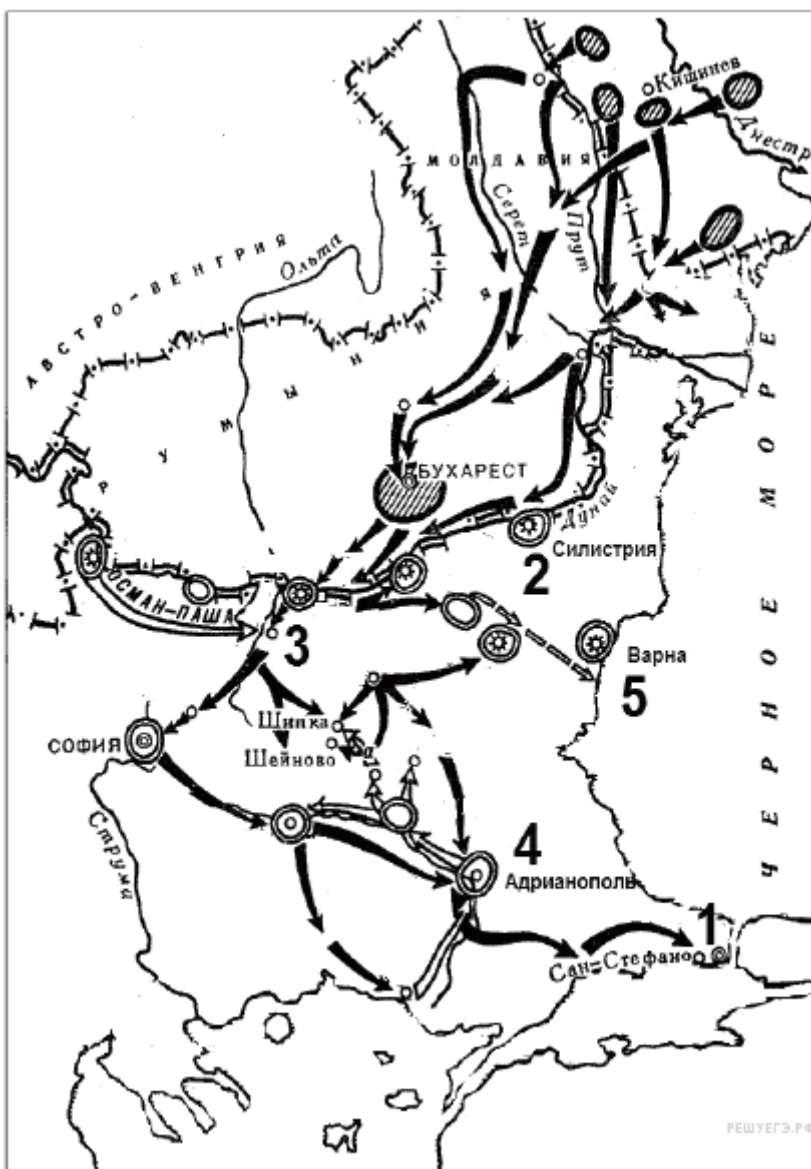
Цифры укажите в порядке возрастания.

- 1) Император, беседовавший с иностранным посланником, — Александр I.
- 2) Участником событий, описываемых в разговоре, был М.А. Бакунин.
- 3) События, о которых идёт речь, произошли в декабре.
- 4) Император подчёркивает в разговоре полное одобрение действий своего брата в период описываемых событий.
- 5) Заговорщики, о которых идёт речь в тексте, стремились к ограничению самодержавия.
- 6) Император уверяет собеседника в том, что солдаты—участники описываемых событий были проникнуты монархическими чувствами, хотя и были обмануты.

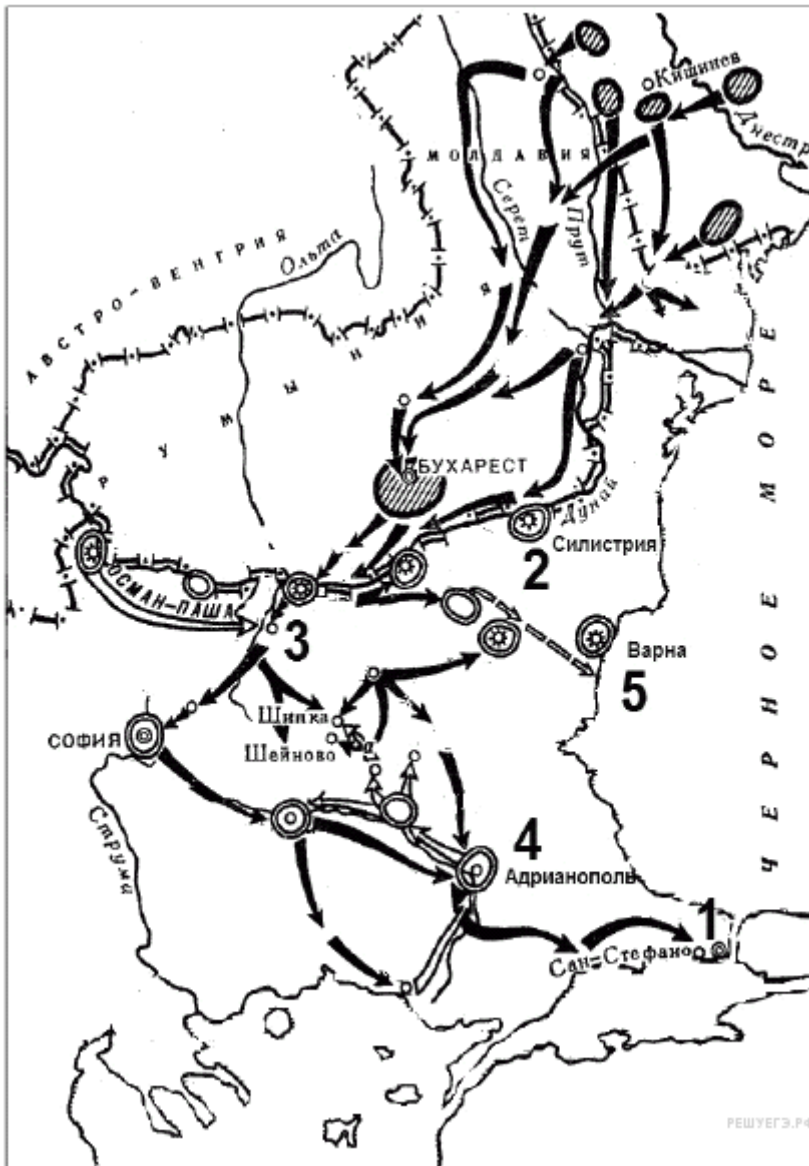
13. Напишите имя российского императора, к годам правления которого относится данная война.



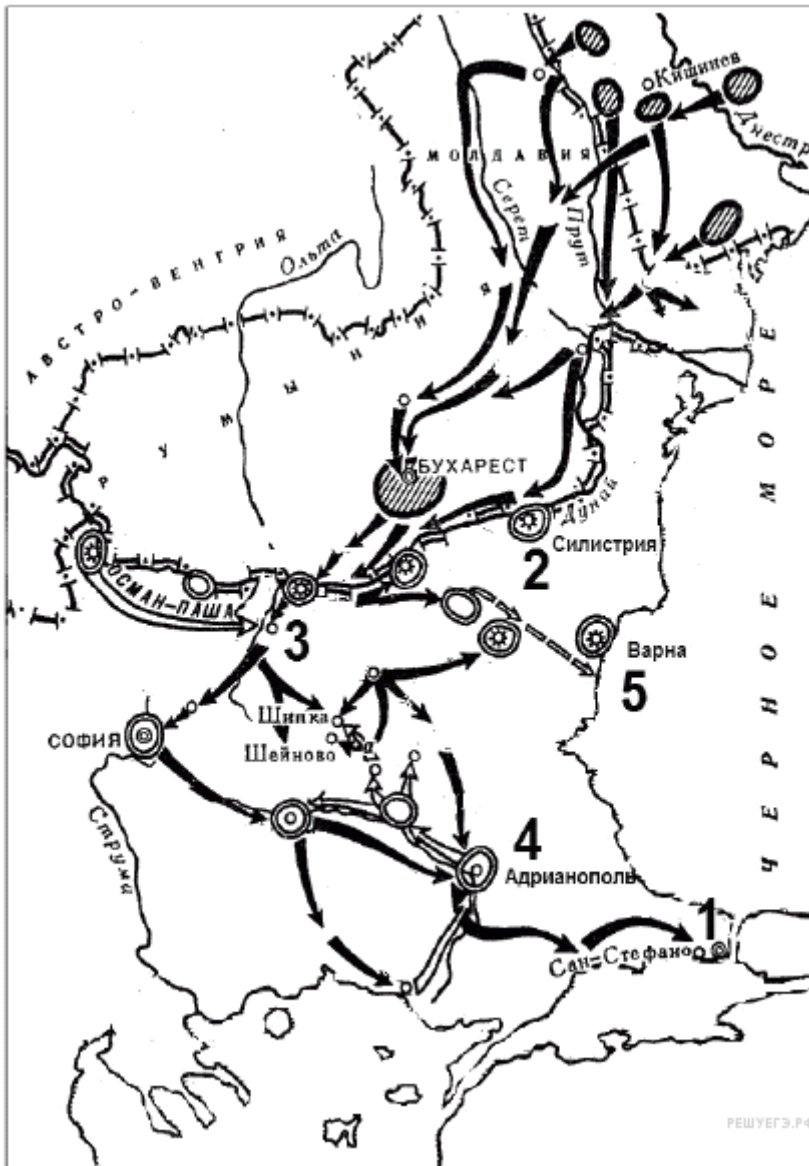
14. Напишите название города, который обозначен на карте цифрой «1».



15. Напишите название обозначенной на карте цифрой «3» крепости, которая в ходе войны длительный период осаждалась основными силами русской армии.



16. Какие суждения, относящиеся к схеме, являются верными? Выберите три суждения из шести предложенных.



- 1) Результатом войны стало приобретение независимости Грецией.
- 2) Во время войны особо отличился русский полководец М. Д. Скобелев.
- 3) Война получила название Крымской.
- 4) Союзником России в этой войне была Великобритания.
- 5) Противником России в этой войне была Османская империя.
- 6) По условиям мирного договора, заключённого по итогам этой войны, Сербия получила независимость.

17. Установите соответствие между памятниками культуры и их краткими характеристиками: к каждой позиции первого столбца подберите соответствующую позицию из второго столбца.

ПАМЯТНИКИ КУЛЬТУРЫ

- А) церковь Спаса Преображения на Ильине улице
- Б) «Рабочий и колхозница»
- В) Исаакиевский собор
- Г) церковь Покрова в Филях

ХАРАКТЕРИСТИКИ

- 1) Фильм выдающегося советского режиссера С. Эйзенштейна.
- 2) Построен в 1818–1858 гг. по проекту архитектора О. Монферрана.
- 3) Новгородский храм, где сохранились фрески Феофана Грека.
- 4) Храм XVII в., образец нарышкинского стиля.
- 5) Храм, построенный в память о взятии Казани Иваном IV.

б) Скульптура В. Мухиной была создана для советского павильона на Всемирной выставке в Париже.

Запишите в ответ цифры, расположив их в порядке, соответствующем буквам:

А	Б	В	Г



18.

Какие суждения о данной марке являются верными? Выберите два суждения из пяти предложенных. Запишите в таблицу цифрь под которыми они указаны.

- 1) Князь, изображённый на марке, был киевским князем.
- 2) Князь, изображённый на марке, — сын Мстислава Великого.
- 3) На данной марке изображены купола Успенского собора во Владимире.
- 4) Данная марка выпущена к 1000-летию со дня рождения князя, который на ней изображён.
- 5) С деятельностью князя, изображённого на марке, связано первое упоминание в летописи о Москве.

19. Укажите памятники, созданные в том веке, когда была выпущена данная марка. В ответ запишите две цифры, под которыми указаны эти памятники.



1)

2)



3)



4)



20. Укажите название и дату войны, о событиях которой идёт речь в источнике. Приведите название военной операции.

Прочтите отрывок из исторического источника и кратко ответьте на вопросы С1—С3. Ответы предполагают использование информации из источника, а также применение исторических знаний по курсу истории соответствующего периода.

Из сочинения историка.

«Марш-манёвр главных сил русской армии прикрывался сильным арьергардом, в задачу которого входило не только обеспечение планомерного и безопасного движения войск, но и дезориентация противника, для чего часть войск арьергарда должна была совершать движение в ложном направлении, увлекая за собой неприятельские отряды. Кутузов приказал командовавшему арьергардом генералу Милорадовичу направить казаков по Рязанской дороге для "фальшивого движения". Войска арьергарда успешно выполнили эту задачу, а также установили направление движения и численность наполеоновских войск.

Несмотря на то, что Наполеон разослал по всем дорогам отряды, чтобы установить направление движения главных сил русской армии, ему так и не удалось это сделать... Наполеон не знал, где находятся Кутузов и его армия. В военной истории нет, пожалуй, подобного примера, когда бы почти 100-тысячное войско могло бы "исчезнуть" на глазах у противника. В умении оторваться от французской армии, ввести её в заблуждение, в способности замаскировать истинное направление движения войск, совершить столь искусно фланговый марш-манёвр — одна из крупнейших заслуг русского командования. Завершив манёвр, русская армия прикрыла Калугу, где были сосредоточены огромные военные запасы, Тулу с её оружейным заводом.

В результате выхода русской армии в район Тарутино открывалась возможность прямого сообщения с южными областями России, которые могли питать армию людским пополнением <...> и всеми видами снабжения».

Критерии оценивания выполнения задания	Баллы
Указаны все элементы ответа	2
Указаны любые два элемента	1
Указан один любой элемент. ИЛИ Ответ неправильный	0
<i>Максимальный балл</i>	2

21. На основе текста и знаний по истории укажите задачи названной военной операции. Приведите не менее трёх положений.

Критерии оценивания выполнения задания	Баллы
Указаны три задачи	2
Указаны одна-две задачи	1

Ответ неправильный	0
Максимальный балл	2

22. Используя текст источника, укажите, в чём, по мнению автора, заключалась заслуга главнокомандующего русскими войсками в ходе проведения названной военной операции? Приведите не менее двух положений.

№	Критерии оценивания ответа на задание 28	Баллы
28.1	Раскрытие темы по существу	3
	Сложный план содержит не менее трёх пунктов, включая два пункта, наличие которых позволит раскрыть данную тему по существу. Оба этих «обязательных» пункта детализированы в подпунктах, позволяющих раскрыть данную тему по существу	3
	Сложный план содержит не менее трёх пунктов, включая два пункта, наличие которых позволит раскрыть данную тему по существу. Только один из этих «обязательных» пунктов детализирован в подпунктах, позволяющих раскрыть данную тему по существу	2
	Сложный план содержит не менее трёх пунктов, включая только один пункт, наличие которого позволит раскрыть данную тему по существу. Этот «обязательный» пункт детализирован в подпунктах, позволяющих раскрыть данную тему по существу	0
	Все иные ситуации, не предусмотренные правилами выставления 2 и 1 балла. ИЛИ Случаи, когда ответ выпускника по форме не соответствует требованию задания (например, не оформлен в виде плана с выделением пунктов и подпунктов)	
	Указания по оцениванию: <i>1. Пункты/подпункты, имеющие абстрактно-формальный характер и не отражающие специфики темы, не засчитываются при оценивании.</i> 2. Если по критерию 28.1 выставляется 0 баллов, то по критерию 28.2 выставляется 0 баллов	
28.2	Корректность формулировок пунктов и подпунктов плана	1
	Формулировки пунктов и подпунктов плана корректны и не содержат ошибок, неточностей	1
	Все иные ситуации	0
<i>Максимальный балл</i>		4

23. Многие представители отечественной творческой интеллигенции с восторгом приняли новую советскую власть. В 1920-х гг. в Советском государстве существовали разнообразные творческие объединения, развивалось авангардное искусство, совершались смелые творческие эксперименты. Но в 1930-х гг. ситуация изменилась: утвердился единый метод — социалистический реализм, другие направления стали преследоваться, творческие объединения были закрыты или слиты в единые союзы, культура была поставлена под жёсткий партийный контроль, на часть творческой интеллигенции обрушились гонения и репрессии. Дайте не менее трёх объяснений произошедшим изменениям.

№	Критерии оценивания ответа на задание 29	Баллы
	Раскрытие смысла высказывания	1
29.1	Смысл высказывания раскрыт: верно выделены одна или несколько основных идей, связанных с содержанием обществоведческого курса, и/или в контексте высказывания сформулированы один или несколько тезисов, который(-е) требует(-ют) обоснования	1

	<p>Смысл высказывания не раскрыт: ни одна основная идея не выделена / ни один тезис не сформулирован.</p> <p>ИЛИ</p> <p>Выделенная идея, сформулированный тезис не отражают смысла высказывания / произведена подмена смысла высказывания рассуждениями общего характера («домашней заготовкой»), не отражающими специфики предложенного высказывания.</p> <p>ИЛИ</p> <p>Раскрытие смысла подменяется прямым пересказом / перефразированием приведённого высказывания / последовательным объяснением каждого слова в высказывании без объяснения смысла высказывания в целом</p>	0
<p>Указание по оцениванию: Если по критерию 29.1 (раскрытие смысла высказывания), выставляется 0 баллов, то по всем остальным критериям оценивания выставляется 0 баллов</p>		
	<p>Теоретическое содержание мини-сочинения (Объяснение ключевого(-ых) понятия(-ий), наличие и корректность теоретических положений)</p>	2
	<p>В контексте хотя бы одной выделенной идеи / одного тезиса приведены корректные с точки зрения научного обществознания (без ошибок) объяснения ключевого(-ых) понятия(-ий) и теоретические положения</p>	2
	<p>В контексте хотя бы одной выделенной идеи / одного тезиса приведены корректные с точки зрения научного обществознания (без ошибок) объяснения ключевого(-ых) понятия(-ий), теоретические положения не представлены.</p> <p>ИЛИ</p> <p>В контексте хотя бы одной выделенной идеи / одного тезиса приведены корректные с точки зрения научного обществознания (без ошибок) теоретические положения, смысл ключевого(-ых) понятия(-ий) не раскрыт.</p>	1
29.2	<p>ИЛИ</p> <p>В приведённых объяснениях ключевого(-ых) понятия(-ий) / теоретических положениях допущены отдельные неточности, не искажающие научного смысла этих понятий, теоретических положений</p>	
	<p>Все иные ситуации, не предусмотренные правилами выставления 2 и 1 балла, в том числе, если теоретическое содержание мини-сочинения отсутствует: смысл ключевого(-ых) понятия(-ий) не объяснён, теоретические положения не приведены или не связаны с основной идеей/тезисом, не раскрывают смысла высказывания.</p> <p>ИЛИ</p> <p>Приведены рассуждения бытового характера без опоры на обществоведческие знания</p>	0
<p>Указание по оцениванию: Если по критерию 29.2 выставляется 0 баллов, то по критерию 29.3 выставляется 0 баллов</p>		
	<p>Теоретическое содержание мини-сочинения: наличие и корректность рассуждений, выводов</p>	1
29.3	<p>В контексте хотя бы одной выделенной идеи / одного тезиса с опорой на корректное(-ые) объяснение(-я) ключевого(-ых) понятия(-ий), теоретические положения приведены связанные между собой последовательные и непротиворечивые рассуждения, на основе которых сформулирован обоснованный и достоверный с точки зрения научного обществознания вывод</p>	1

	Все иные ситуации, включая рассуждения и выводы бытового характера без опоры на обществоведческие знания	0
29.4	Качество приводимых фактов и примеров	2
	Приведено из различных источников не менее двух корректных, развёрнуто сформулированных фактов/ примеров, подтверждающих иллюстрируемую идею/тезис / положение/рассуждение/вывод и не дублирующих друг друга по содержанию. Имеется явная связь каждого факта/примера с приведённой в сочинении идеей/тезисом/положением/рассуждением/ выводом	2
	Приведён только один корректный, развёрнуто сформулированный факт/пример, подтверждающий иллюстрируемую идею/тезис/положение/рассуждение/ вывод. Имеется явная связь этого факта/примера с приведённой в сочинении идеей/тезисом/положением/рассуждением/ выводом. ИЛИ Приведены из источников одного типа корректные, развёрнуто сформулированные факты/примеры, подтверждающие иллюстрируемую идею/тезис/положение/ рассуждение/вывод. Имеется явная связь каждого факта/примера с приведёнными в сочинении идеей/тезисом/положением/ рассуждением/выводом. ИЛИ Приведены два примера из источников разных типов, дублирующие друг друга по содержанию. Имеется явная связь каждого факта/примера с приведёнными в сочинении идеей/тезисом/положением/ рассуждением/выводом	1
	Все иные ситуации, не предусмотренные правилами выставления 2 и 1 балла	0
	Указание по оцениванию: В качестве источников могут использоваться факты общественной жизни (в том числе по сообщениям СМИ), личного социального опыта (включая в том числе прочитанные книги, просмотренные кинофильмы), материалы учебных предметов (истории, географии и др.). <i>1. Примеры из разных учебных предметов рассматриваются в качестве примеров из различных источников</i> <i>2. Факты/примеры, содержащие фактические и смысловые ошибки, приведшие к существенному искажению сути высказывания или свидетельствующие о непонимании используемого исторического, литературного, географического и (или) другого материала, не засчитываются при оценивании</i>	0
	<i>Максимальный балл</i>	6

24. В исторической науке существуют дискуссионные проблемы, по которым высказываются различные, часто противоречивые точки зрения. Ниже приведена одна из спорных точек зрения, существующих в исторической науке.

«Николай II был неспособным монархом, и его царствование было крайне неудачным».

Используя исторические знания, приведите два аргумента, которыми можно подтвердить данную точку зрения, и два аргумента, которыми можно опровергнуть её.

Ответ запишите в следующем виде.

Аргументы в подтверждение:

- 1)...
- 2)...

Аргументы в опровержение:

- 1)...
- 2)...

Критерии оценивания выполнения задания	Баллы
Приведены два аргумента в подтверждение и два в опровержение оценки.	4
Приведены два аргумента в подтверждение и один в опровержение оценки. ИЛИ Приведены один аргумент в подтверждение и два в опровержение оценки.	3
Приведены один аргумент в подтверждение и один в опровержение оценки.	2
Приведены только два аргумента в подтверждение оценки. ИЛИ Приведены только два аргумента в опровержение оценки.	1
Приведён только один любой аргумент. ИЛИ Приведены только факты, иллюстрирующие события (явления, процессы), связанные с данной точкой зрения, но не являющиеся аргументами. ИЛИ Приведены рассуждения общего характера, не соответствующие требованию задания. ИЛИ Ответ неправильный.	0
<i>Максимальный балл</i>	4

25. Вам необходимо написать историческое сочинение об **ОДНОМ** из периодов истории России:

- 1) 1237—1480 гг.;
- 2) 1725—1762 гг.;
- 3) 1953—1964 гг.

В сочинении необходимо:

— указать не менее двух событий (явлений, процессов), относящихся к данному периоду истории;

— назвать две исторические личности, деятельность которых связана с указанными событиями (явлениями, процессами), и, используя знание исторических фактов, охарактеризовать роль этих личностей в событиях (явлениях, процессах) данного периода истории России;

— указать не менее двух причинно-следственных связей, существовавших между событиями (явлениями, процессами) в рамках данного периода истории.

Используя знание исторических фактов и (или) мнений историков, дайте одну историческую оценку значимости данного периода для истории России. В ходе изложения необходимо использовать исторические термины, понятия, относящиеся к данному периоду.

Критерий	Критерии оценивания ответа на задание С6	Баллы
К1	Указание событий (явлений, процессов)	2
	Правильно указаны два события (явления, процесса)	2
	Правильно указано одно событие (явление, процесс)	1
	События (явления, процессы) не указаны или указаны неверно	0
К2	Исторические личности и их роль в данный период истории России	2
	Правильно указаны две исторические личности, правильно указана роль этих личностей в событиях (явлениях, процессах) данного периода истории России	2
	Правильно указаны одна-две исторические личности, правильно указана роль только одной личности в событиях (явлениях, процессах) данного периода истории России	1
	Правильно указаны одна-две исторические личности, их роль в событиях (явлениях, процессах) данного периода истории России указана неправильно. ИЛИ Правильно указаны одна-две исторические личности, их роль в событиях (явлениях, процессах) данного периода истории России не указана.	0

	ИЛИ Исторические личности указаны неверно. ИЛИ Исторические личности не указаны	
К3	Причинно-следственные связи	2
	Правильно указаны две причинно-следственные связи, существовавшие между событиями (явлениями, процессами)	2
	Правильно указана одна причинно-следственная связь, существовавшая между событиями (явлениями, процессами)	1
	Причинно-следственные связи указаны неверно. ИЛИ Причинно-следственные связи не указаны	0
К4	Историческая оценка событий	1
	Дана историческая оценка значимости периода с опорой на исторические факты и (или) мнения историков	1
	Историческая оценка сформулирована в общей форме или на уровне обычных представлений, без привлечения исторических фактов и (или) мнений историков. ИЛИ Историческая оценка не дана	0
К5	Использование исторических терминов, понятий	1
	При изложении корректно использованы исторические термины, понятия	1
	При изложении допущено некорректное использование исторических терминов, понятий. ИЛИ Исторические термины, понятия не использованы	0
К6	Наличие фактических ошибок. 1 или 2 балла по критерию К6 может быть выставлено только в случае, если по критериям К1–К4 выставлено не менее 4 баллов. При оценивании по критерию К6 не засчитываются ошибки, учтённые при выставлении баллов по критериям К1–К5	2
	В историческом сочинении отсутствуют фактические ошибки	2
	Допущена одна фактическая ошибка	1
	Допущены две или более фактические ошибки	0
К7	Форма изложения. 1 балл по критерию К7 может быть выставлен только в случае, если по критериям К1–К4 выставлено в сумме не менее 4 баллов	1
	Ответ представлен в виде исторического сочинения (последовательное, связное изложение материала)	1
	Ответ представлен в виде отдельных отрывочных положений	0
Максимальное количество баллов		11

